

Du ska arbeta med dessa uppgifter tills att din lärare säger att du ska lägga ifrån dig penna.
Gör det du hinner!

1 a) $\sqrt{81} =$

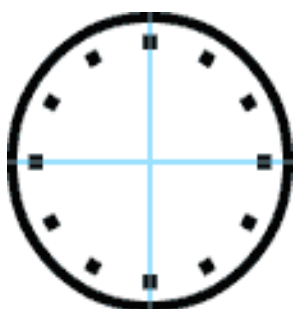
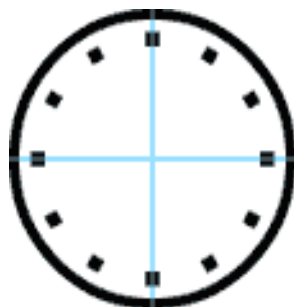
b) $\sqrt{100} =$

2 a) $36 + 24 = \underline{\quad} \cdot 5$

b) $58 - 2 = \underline{\quad} \cdot 7$

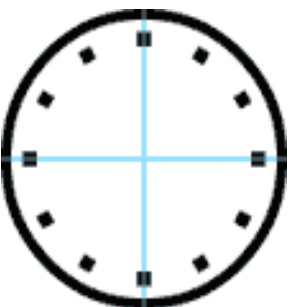
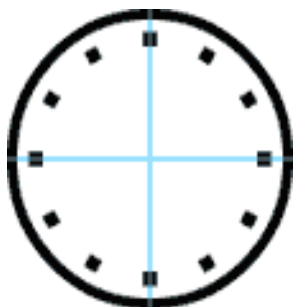
3 Marwa har 32 kr mer än Alison. Tillsammans har de 80 kr.
Hur mycket pengar har Marwa?

4 a) Rita visarna så att klockan visar halv två.



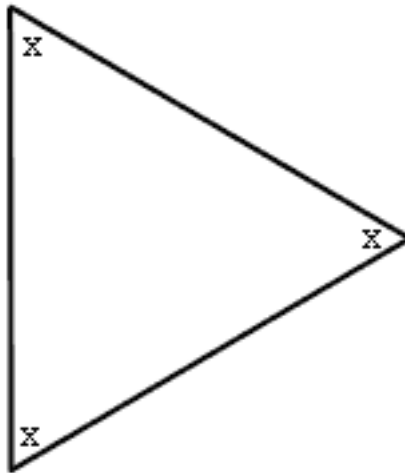
Extra klocka

4 b) Rita visarna så att klockan visar kvart i åtta .

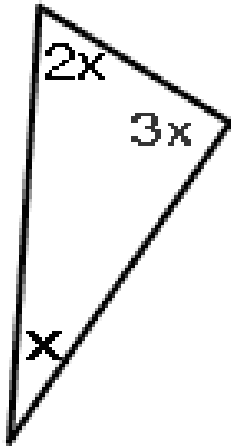


Extra klocka

5a Hur stora är vinklarna?



5b Hur stor är vinklarna?



$$\begin{aligned} 2x + 3x + x &= 180 \\ 6x &= 180 \\ x &= 30 \end{aligned}$$